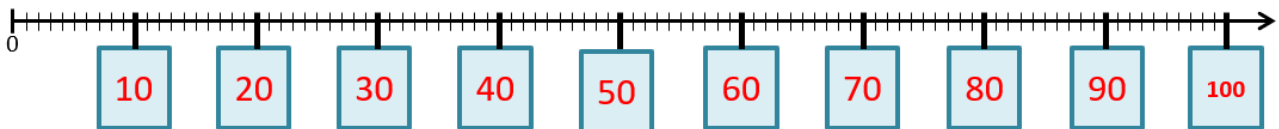



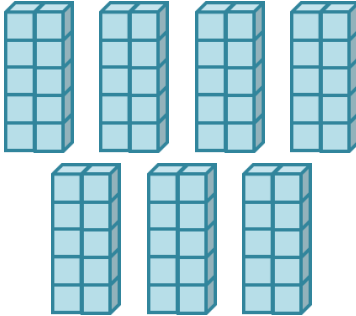
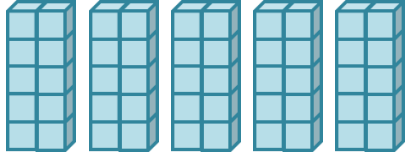
Das kleine Einmaleins: Die 10er-Reihe

Lösungsblatt

Trage die Ergebnisse der 2er-Reihe auf dem Zahlenstrahl richtig ein!



Vervollständige, berechne und kontrolliere durch Abzählen!

		
$4 \cdot 10 = 40$	$7 \cdot 10 = 70$	$5 \cdot 10 = 50$

Berechne!

$3 \cdot 10 = 30$	$10 \cdot 10 = 100$	$6 \cdot 10 = 60$
$5 \cdot 10 = 50$	$8 \cdot 10 = 80$	$1 \cdot 10 = 10$
$7 \cdot 10 = 70$	$0 \cdot 10 = 0$	$9 \cdot 10 = 90$
$2 \cdot 10 = 20$	$4 \cdot 10 = 40$	$7 \cdot 10 = 70$

Setze das richtige Zeichen: < oder > oder =

$7 \cdot 10 < 9 \cdot 10$	$6 \cdot 10 > 10 \cdot 5$
$10 \cdot 4 > 3 \cdot 10$	$8 \cdot 10 = 10 \cdot 8$