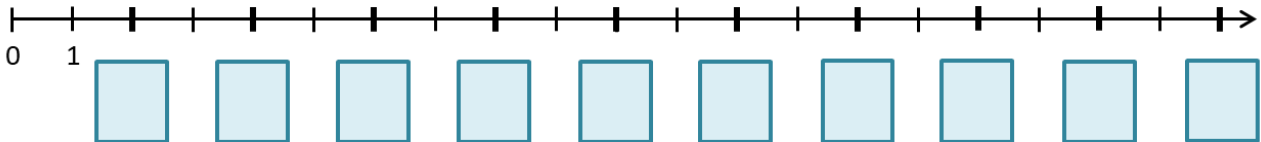


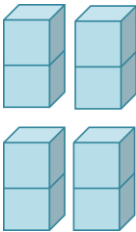
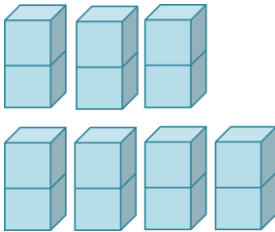
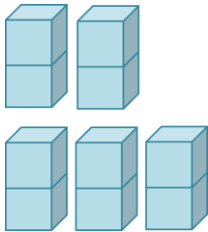
# Das kleine Einmaleins: Die 2er-Reihe

Arbeitsblatt

Trage die Ergebnisse der 2er-Reihe auf dem Zahlenstrahl richtig ein!



Vervollständige, berechne und kontrolliere durch Abzählen!

		
$4 \cdot 2 =$	$\cdot 2 =$	$\cdot =$

Berechne!

$3 \cdot 2 =$	$10 \cdot 2 =$	$6 \cdot 2 =$
$5 \cdot 2 =$	$8 \cdot 2 =$	$1 \cdot 2 =$
$7 \cdot 2 =$	$0 \cdot 2 =$	$9 \cdot 2 =$
$2 \cdot 2 =$	$4 \cdot 2 =$	$7 \cdot 2 =$

Setze das richtige Zeichen: < oder > oder =

$7 \cdot 2$ ___ $9 \cdot 2$	$6 \cdot 2$ ___ $2 \cdot 5$
$2 \cdot 4$ ___ $3 \cdot 2$	$4 \cdot 2$ ___ $2 \cdot 4$