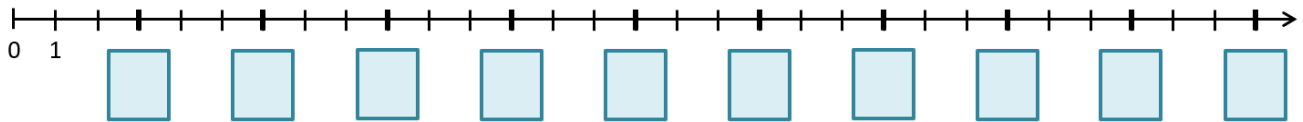


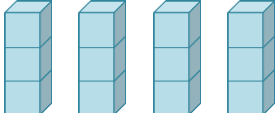
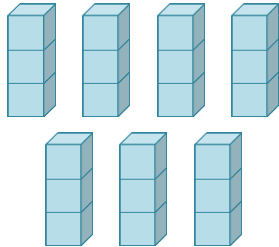
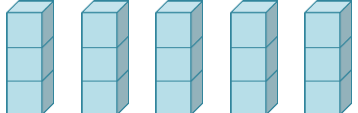
# Das kleine Einmaleins: Die 3er-Reihe

Arbeitsblatt

Trage die Ergebnisse der 3er-Reihe auf dem Zahlenstrahl richtig ein!



Vervollständige, berechne und kontrolliere durch Abzählen!

		
$4 \cdot 3 =$	$\cdot 3 =$	$\cdot =$

Berechne!

$3 \cdot 3 =$	$10 \cdot 3 =$	$6 \cdot 3 =$
$5 \cdot 3 =$	$8 \cdot 3 =$	$1 \cdot 3 =$
$7 \cdot 3 =$	$0 \cdot 3 =$	$9 \cdot 3 =$
$2 \cdot 3 =$	$4 \cdot 3 =$	$7 \cdot 3 =$

Setze das richtige Zeichen: < oder > oder =

$7 \cdot 3$	$9 \cdot 3$	$6 \cdot 3$	$3 \cdot 5$
$3 \cdot 4$	$3 \cdot 3$	$4 \cdot 3$	$3 \cdot 4$