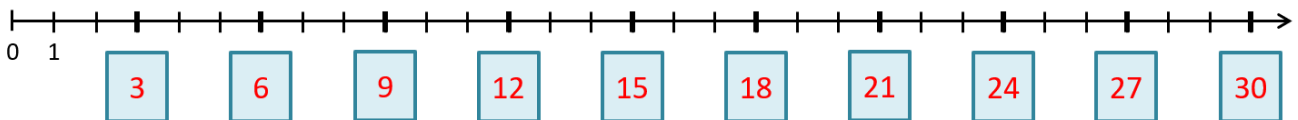


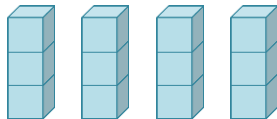
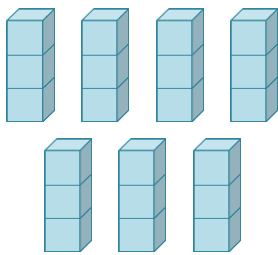
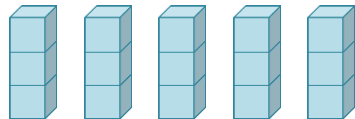
Das kleine Einmaleins: Die 3er-Reihe

Lösungsblatt

Trage die Ergebnisse der 3er-Reihe auf dem Zahlenstrahl richtig ein!



Vervollständige, berechne und kontrolliere durch Abzählen!

		
$4 \cdot 3 = 12$	$7 \cdot 3 = 21$	$5 \cdot 3 = 15$

Berechne!

$3 \cdot 3 = 9$	$10 \cdot 3 = 30$	$6 \cdot 3 = 18$
$5 \cdot 3 = 15$	$8 \cdot 3 = 24$	$1 \cdot 3 = 3$
$7 \cdot 3 = 21$	$0 \cdot 3 = 0$	$9 \cdot 3 = 27$
$2 \cdot 3 = 6$	$4 \cdot 3 = 12$	$7 \cdot 3 = 21$

Setze das richtige Zeichen: < oder > oder =

$7 \cdot 3 < 9 \cdot 3$	$6 \cdot 3 > 3 \cdot 5$
$3 \cdot 4 > 3 \cdot 3$	$4 \cdot 3 = 3 \cdot 4$