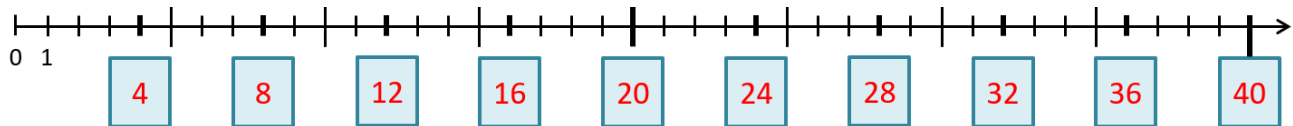


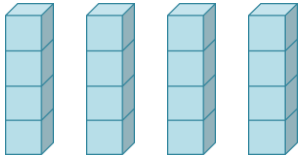
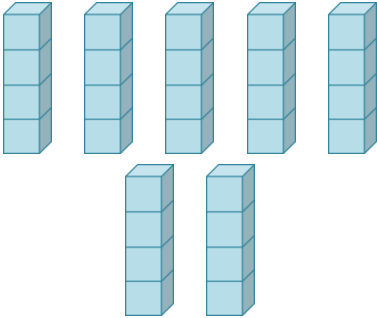
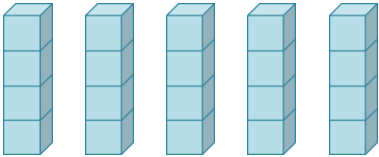
Das kleine Einmaleins: Die 4er-Reihe

Lösungsblatt

Trage die Ergebnisse der 4er-Reihe auf dem Zahlenstrahl richtig ein!



Vervollständige, berechne und kontrolliere durch Abzählen!

		
$4 \cdot 4 = 16$	$7 \cdot 4 = 28$	$5 \cdot 4 = 20$

Berechne!

$3 \cdot 4 = 12$	$10 \cdot 4 = 40$	$6 \cdot 4 = 24$
$5 \cdot 4 = 20$	$8 \cdot 4 = 32$	$1 \cdot 4 = 4$
$7 \cdot 4 = 28$	$0 \cdot 4 = 0$	$9 \cdot 4 = 36$
$2 \cdot 4 = 8$	$4 \cdot 4 = 16$	$7 \cdot 4 = 28$

Setze das richtige Zeichen: < oder > oder =

$7 \cdot 4 < 9 \cdot 4$	$6 \cdot 4 > 4 \cdot 5$
$4 \cdot 4 > 3 \cdot 4$	$5 \cdot 4 = 4 \cdot 5$