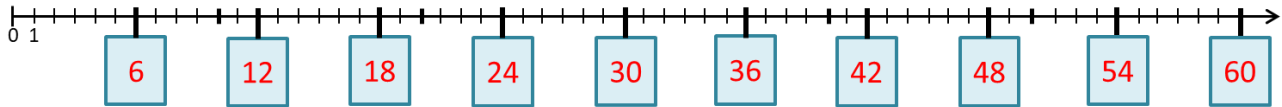


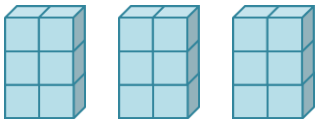
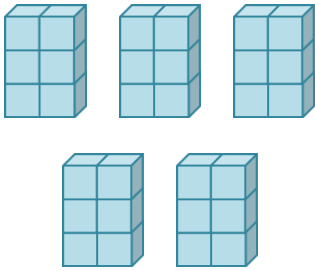
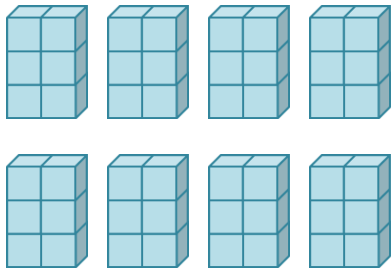
Das kleine Einmaleins: Die 6er-Reihe

Lösungsblatt

Trage die Ergebnisse der 6er-Reihe auf dem Zahlenstrahl richtig ein!



Vervollständige, berechne und kontrolliere durch Abzählen!

		
$3 \cdot 6 = 18$	$5 \cdot 6 = 30$	$8 \cdot 6 = 48$

Berechne!

$5 \cdot 6 = 30$	$4 \cdot 6 = 24$	$2 \cdot 6 = 12$
$9 \cdot 6 = 54$	$0 \cdot 6 = 0$	$7 \cdot 6 = 42$
$1 \cdot 6 = 6$	$8 \cdot 6 = 48$	$5 \cdot 6 = 30$
$6 \cdot 6 = 36$	$10 \cdot 6 = 60$	$3 \cdot 6 = 18$

Setze das richtige Zeichen: < oder > oder =

$4 \cdot 6 < 6 \cdot 5$	$7 \cdot 6 < 6 \cdot 9$
$5 \cdot 6 = 6 \cdot 5$	$9 \cdot 6 > 6 \cdot 7$