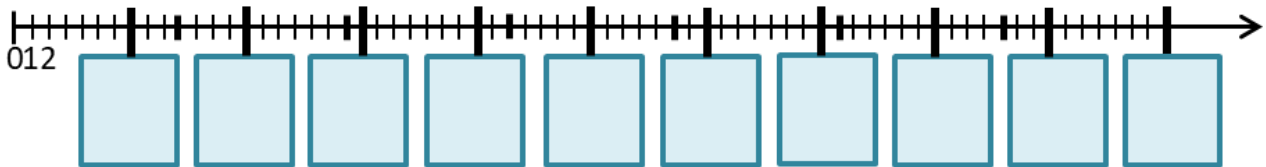


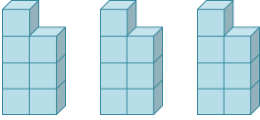
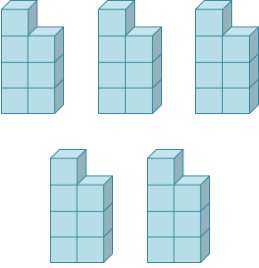

# Das kleine Einmaleins: Die 7er-Reihe

Arbeitsblatt

Trage die Ergebnisse der 7er-Reihe auf dem Zahlenstrahl richtig ein!



Vervollständige, berechne und kontrolliere durch Abzählen!

		
$3 \cdot 7 =$	$\cdot 7 =$	$\cdot =$

Berechne!

$9 \cdot 7 =$	$0 \cdot 7 =$	$7 \cdot 7 =$
$5 \cdot 7 =$	$8 \cdot 7 =$	$2 \cdot 7 =$
$6 \cdot 7 =$	$4 \cdot 7 =$	$3 \cdot 7 =$
$1 \cdot 7 =$	$10 \cdot 7 =$	$5 \cdot 7 =$

Setze das richtige Zeichen: < oder > oder =

$6 \cdot 7$	$7 \cdot 5$	$3 \cdot 7$	$7 \cdot 5$
$4 \cdot 7$	$7 \cdot 4$	$9 \cdot 7$	$7 \cdot 6$