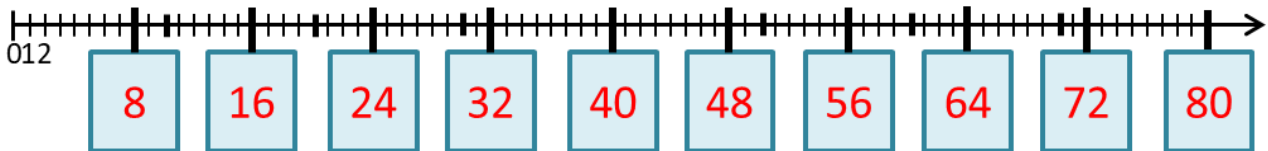


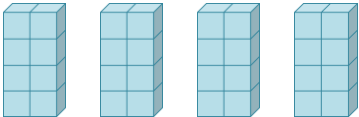


# Das kleine Einmaleins: Die 8er-Reihe

Lösungsblatt

Trage die Ergebnisse der 8er-Reihe auf dem Zahlenstrahl richtig ein!



Vervollständige, berechne und kontrolliere durch Abzählen!

		
$4 \cdot 8 = 32$	$6 \cdot 8 = 48$	$7 \cdot 8 = 56$

Berechne!

$5 \cdot 8 = 40$	$4 \cdot 8 = 32$	$2 \cdot 8 = 16$
$9 \cdot 8 = 72$	$0 \cdot 8 = 0$	$7 \cdot 8 = 56$
$1 \cdot 8 = 8$	$8 \cdot 8 = 64$	$5 \cdot 8 = 40$
$6 \cdot 8 = 48$	$10 \cdot 8 = 80$	$3 \cdot 8 = 24$

Setze das richtige Zeichen: < oder > oder =

$6 \cdot 8 > 8 \cdot 5$	$7 \cdot 8 < 8 \cdot 9$
$5 \cdot 8 = 8 \cdot 5$	$9 \cdot 8 > 8 \cdot 7$