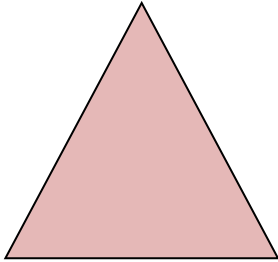
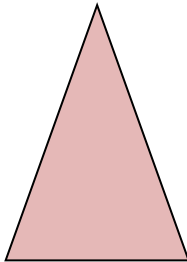
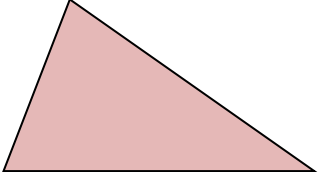
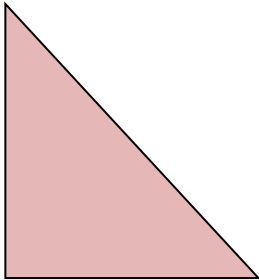
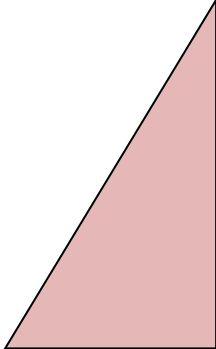


Dreiecksarten

Lösungsblatt

Aufgabe:

Schneide die Dreiecke des Beiblattes aus und klebe sie in die richtigen Felder der folgenden Tabelle!

		Nach den Seiten:		
		Gleichseitiges Δ 3 gleich lange Seiten	Gleichschenkliges Δ 2 gleich lange Seiten	Ungleichseitiges Δ 3 verschieden lange Seiten
Nach den Winkeln:	Spitzwinkliges Δ alle Winkel $< 90^\circ$			
	Rechtwinkliges Δ ein Winkel $= 90^\circ$			
	Stumpwinkliges Δ ein Winkel $> 90^\circ$		