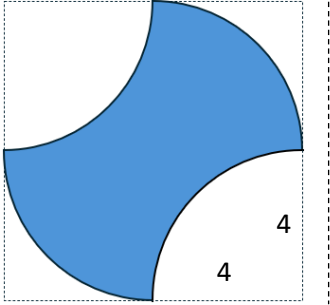
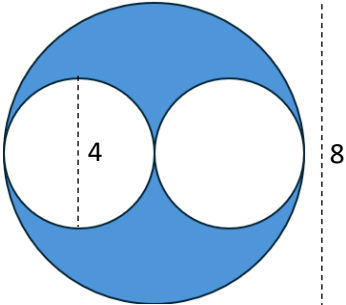
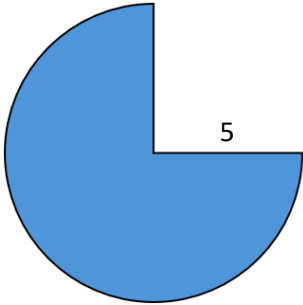
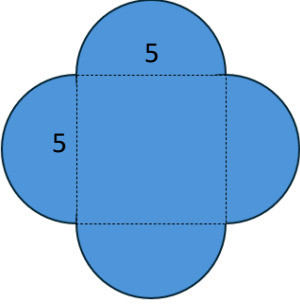
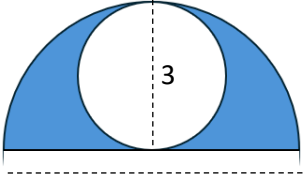



Kreisumfang – zusammengesetzte Figuren

Arbeitsblatt

Berechne jeweils den **Umfang** der folgenden Figuren. (Strichlierte Linien zählen nicht dazu!)

 <p>8</p> <p>4</p> <p>4</p>	 <p>4</p> <p>8</p>	 <p>5</p>
 <p>5</p> <p>5</p>	 <p>3</p> <p>6</p>	 <p>6</p>

Autor: Erich Hnilica | **Thema:** Kreis, Umfang, zusammengesetzte Figuren

© 2024 mathe-lexikon.at. Änderungen und Irrtümer vorbehalten. Die Bedingungen für die Weitergabe/Vervielfältigung dieses Dokuments finden Sie unter: <http://agb.mathe-lexikon.at>