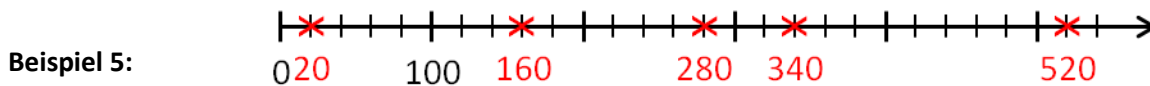
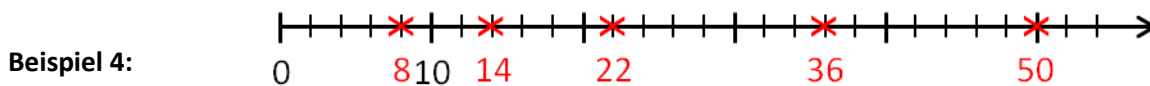
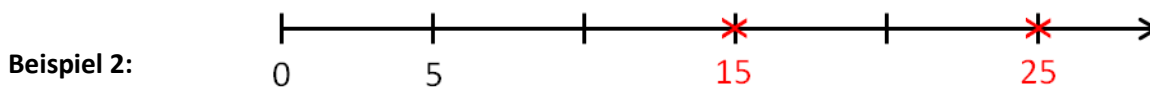
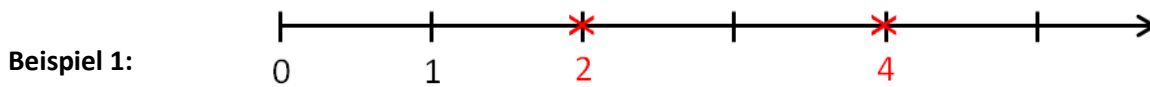


Natürliche Zahlen auf dem Zahlenstrahl

Lösungsblatt


Zahlen ablesen:

Welche natürlichen Zahlen sind auf den Zahlenstrahlen jeweils markiert?



Zahlen markieren:

Beispiel 6: Zeichne einen Zahlenstrahl mit der Einheitsstrecke $\overline{01} = 1\text{cm}$ und markiere folgende Zahlen auf dem Zahlenstrahl: 2, 4, 5, 7



Beispiel 7: Zeichne einen Zahlenstrahl mit der Einheitsstrecke $\overline{01} = 1\text{cm}$ und markiere folgende Zahlen auf dem Zahlenstrahl: 3, 6, 8, 9

